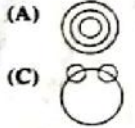
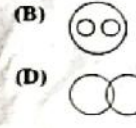

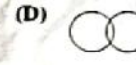

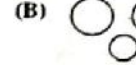


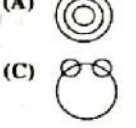
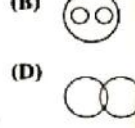

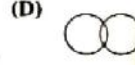

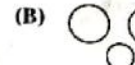




Part - A / भाग - अ  
MENTAL ABILITY / मानसिक योग्यता

- Find the missing set of letters in YWZX : USVT :: MKNL : ?  
(A) IGHA (B) IGJH  
(C) IGJJ (D) IGHH
- Ram is 5 times as old as Shyam. If their difference of age is 8 years, then how old is Ram?  
(A) 8 years (B) 10 years  
(C) 12 years (D) 5 years
- From the set of numbers given in four alternatives, which is most similar to the set (1, 8, 27)?  
(A) (64, 125, 216) (B) (5, 12, 32)  
(C) (60, 79, 86) (D) (33, 67, 73)
- Which diagram correctly illustrates the relationship among: Carrot, Food, Vegetables?  
(A)  (B)   
(C)  (D) 
- 'Cyclone' is related to 'Anticyclone', in the same way as 'Flood' is related to .....  
Choose the best option -  
(A) Devastation (B) Havoc  
(C) River (D) Drought
- Which diagram best illustrates the relationship among: Pigeons, Birds, Dogs?  
(A)  (B)   
(C)  (D) 
- निम्न में अनुपस्थित अक्षरों के समूह को ज्ञात कीजिए -  
YWZX : USVT :: MKNL : ?  
(A) IGHA (B) IGJH  
(C) IGJJ (D) IGHH
- राम की उम्र श्याम से 5 गुना ज्यादा है। अगर उन दोनों की उम्र में 8 वर्ष का अंतर है, तो राम की क्या उम्र है?  
(A) 8 वर्ष (B) 10 वर्ष  
(C) 12 वर्ष (D) 5 वर्ष
- दिए गए चार विकल्पों में से कौन सा दिए गए समुच्चय (1, 8, 27) के सर्वाधिक समान है?  
(A) (64, 125, 216) (B) (5, 12, 32)  
(C) (60, 79, 86) (D) (33, 67, 73)
- गाजर, खाद्य पदार्थ, सब्जियों को कौन - सा चित्र सही से निरूपित कर रहा है?  
(A)  (B)   
(C)  (D) 
- 'चक्रवात' संबंधित है 'प्रतिचक्रवात' से, उसी प्रकार 'बाढ़' संबंधित है ..... से।  
सबसे उपयुक्त विकल्प चुनें -  
(A) तबाही (B) नाश  
(C) नदी (D) सूखा
- कबूतरों, पक्षियों, कुत्तों के संबंध को कौन - सा चित्र सही से निरूपित कर रहा है?  
(A)  (B)   
(C)  (D) 

- If  $\div$  means  $\times$ ,  $\times$  means  $-$ ,  $+$  means  $\times$  and  $-$  means  $\div$ , then  $2 + 8 \times 16 - 4 \div 2 = ?$   
(A) 4 (B) 8  
(C) 10 (D) 12
- Find the missing number in the given series:  
4, 7, 11, 18, 29, 47, .....123, 199.  
(A) 76 (B) 70  
(C) 95 (D) 105
- Poles : Magnet :: ? : Battery  
Correct analogy for the above is -  
(A) Energy (B) Power  
(C) Terminals (D) Cells
- Choose the pair in which the words are differently related from the following -  
(A) Broad : Wide (B) Light : Heavy  
(C) Tiny : Small (D) Big : Large
- Value of  $0.003 \times 0.02$  is -  
(A) 0.06 (B) 0.006  
(C) 0.0006 (D) 0.000060
- Find the missing number in the matrix?  

72	24	6
96	16	12
108	?	18

  
(A) 12 (B) 16  
(C) 18 (D) 20
- Directions: (Q.13-14) Study the following number line and answer the questions that follow-  
7 5 9 5 2 3 5 9 4 8 5 9 5 4 5 9 3 5 5 9 5 3 5 9 4 5 2 5 3 5 6 5 9  
7. अगर + का मतलब  $\times$ ,  $\times$  का मतलब  $-$ , + का मतलब  $\times$  और  $-$  का मतलब  $\div$  है, तो  $2 + 8 \times 16 - 4 \div 2 = ?$   
(A) 4 (B) 8  
(C) 10 (D) 12
- निम्न श्रेणी में लुप्त संख्या ज्ञात कीजिए -  
4, 7, 11, 18, 29, 47, .....123, 199.  
(A) 76 (B) 70  
(C) 95 (D) 105
- ध्रुव : चुंबक :: ? : बैटरी  
उपरोक्त के लिए सही समानता है -  
(A) ऊर्जा (B) बिजली  
(C) टर्मिनल (D) सेल्स
- निम्न में से असंगत शब्दों के जोड़े को ज्ञात कीजिये -  
(A) विस्तृत : चौड़ा (B) हलका : भारी  
(C) लघु : छोटा (D) बड़ा : विशाल
- $0.003 \times 0.02$  का मान है -  
(A) 0.06 (B) 0.006  
(C) 0.0006 (D) 0.000060
- निम्न में से लुप्त संख्या क्या है ?  

72	24	6
96	16	12
108	?	18

  
(A) 12 (B) 16  
(C) 18 (D) 20
- निर्देश: (प्र.13-14) निम्न दिए अंकों को पढ़ कर प्रश्नों के उत्तर दें -  
7 5 9 5 2 3 5 9 4 8 5 9 5 4 5 9 3 5 5 9 5 3 5 9 5 3 5 9 4 5 2 5 3 5 6 5 9  
13. कितनी बार दो लगातार दिए हुए अंकों के मध्य में 2 का अंतर है?  
(A) 5 (B) 7  
(C) 9 (D) 8
- How many times do the two consecutive numbers have a difference of 2?  
(A) 5 (B) 7  
(C) 9 (D) 8



14. How many times is '5' followed by '9'? But in such pairs, '3' should not come before '5'.

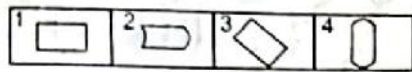
- (A) 3 (B) 4  
(C) 5 (D) 6

15. The next term in the series is-

8, 22, 8, 28, 8, .....

- (A) 9 (B) 29  
(C) 32 (D) 34

16. Find the odd one out -



- (A) 1 (B) 2  
(C) 3 (D) 4

17. If 378 coins consist of 1 rupee, 50 paise and 25 paise coins, whose values are in the ratio 13:11:7, then number of 50 paise coins will be -

- (A) 136 (B) 133  
(C) 132 (D) 128

18. In a certain code, STYLE is written as UVZJC and BLUNT is written as DNVLR. How is MOULD written in that code?

- (A) OQVJB (B) KMVNT  
(C) OQSNF (D) KMTNF

19. Mike starts from his home and drives 10 miles towards west. Then turns to his right and drives 10 miles and then turns to his left and drives 5 miles again turning to his left, he drives for 10 miles. Finally, he turns left and drives 15 miles. What is the shortest distance of his present location from his home?

- (A) 0 miles (B) 50 miles  
(C) 30 miles (D) 15 miles

20. The average age of Divya and Daksh is 22 years. If Surbhi's age is added to it, then the average of their ages becomes 28 years. What is Surbhi's age?

- (A) 37 years (B) 38 years  
(C) 39 years (D) 40 years

14. कितनी बार '5' के बाद '9' आया है? परन्तु इन जोड़ों में '5' से पहले '3' नहीं आना चाहिए-

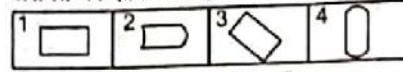
- (A) 3 (B) 4  
(C) 5 (D) 6

15. श्रेणी का अगला अंक है-

8, 22, 8, 28, 8, .....

- (A) 9 (B) 29  
(C) 32 (D) 34

16. असंगत को ज्ञात कीजिए -



- (A) 1 (B) 2  
(C) 3 (D) 4

17. यदि 378 सिक्कों में एक रुपये, 50 पैसे तथा 25 पैसे के सिक्के हों, जिनके मूल्य का अनुपात 13:11:7 हो, तो 50 पैसे के सिक्कों की संख्या होगी -

- (A) 136 (B) 133  
(C) 132 (D) 128

18. किसी कूट में, STYLE को UVZJC लिखा जाता है एवं BLUNT को DNVLR लिखा जाता है। उस कूट में MOULD कैसे लिखा जाएगा?

- (A) OQVJB (B) KMVNT  
(C) OQSNF (D) KMTNF

19. माईक अपने घर से निकला और 10 मील पश्चिम की तरफ चला। फिर दाहिनी तरफ मुड़ कर 10 मील चला और फिर बायें मुड़ कर 5 मील चल कर फिर से बायें मुड़ कर 10 मील चला। अंत में वह बायीं ओर मुड़ता है और 15 मील चलता है। उसके तत्कालिक स्थान से उसका घर कितनी दूरी पर है?

- (A) 0 मील (B) 50 मील  
(C) 30 मील (D) 15 मील

20. दिया गया तथा दक्ष की औसत आयु 22 वर्ष है। यदि सुरभि की उम्र को भी जोड़ दिया जाए, तो इन सभी की औसत आयु 28 वर्ष हो जाती है। सुरभि की उम्र क्या होगी?

- (A) 37 वर्ष (B) 38 वर्ष  
(C) 39 वर्ष (D) 40 वर्ष

21. In an examination, Raj got more marks than Mukesh, but not as many as Priya. Priya got more marks than Gaurav and Kavita. Gaurav got less marks than Mukesh, but his marks are not the lowest in the group of five. Who is the second in the descending order of marks?

- (A) Priya  
(B) Kavita  
(C) Raj  
(D) Cannot be determined

22. Introducing a boy, a girl said, 'He is the son of the daughter of the father of my maternal uncle'. What is the relation between the girl and the boy?

- (A) Niece - Uncle  
(B) Sister - Brother  
(C) Aunt - Nephew  
(D) Sister-in-law and Brother-in-law

23. Which of the following is not related to the others?

- (A) Harp (B) Guitar  
(C) Flute (D) Violin

24. Among five friends, A is heavier than B & D. C is lighter than D. B is lighter than D but heavier than E. Who among them is the heaviest?

- (A) B (B) C  
(C) D (D) A

25. A is sister of B. F is daughter of G. C is mother of B. D is father of C. E is the mother of D. A is related to D as -

- (A) Grand daughter  
(B) Daughter  
(C) Daughter-in-law  
(D) Sister

26. Find the odd one out from the following -

- (A) Island (B) Coast  
(C) Peninsula (D) Oasis

21. एक परीक्षा में, राज को मुकेश से ज्यादा अंक मिले, किन्तु प्रिया जितने नहीं। प्रिया को गौरव एवं कविता से ज्यादा अंक मिले। गौरव को मुकेश से कम अंक प्राप्त हुए, परन्तु उसके अंक इन पाँचों में सबसे कम नहीं थे। अंकों की अवरोही व्यवस्था में दूसरे स्थान पर कौन है?

- (A) प्रिया  
(B) कविता  
(C) राज  
(D) कह नहीं सकते

22. एक लड़के का परिचय कराते हुए, एक लड़की बोली 'यह मेरे मामा के पिताजी की लड़की का लड़का है।' लड़की एवं लड़के में क्या संबंध है?

- (A) भतीजी - चाचा  
(B) बहिन - भाई  
(C) चाची - भतीजा  
(D) साली - जीजा

23. निम्न में से कौनसा दूसरे से सम्बन्धित नहीं है?

- (A) वीणा (B) गिटार  
(C) बौंसुरी (D) सारंगी

24. पाँच मित्रों में A, B और D की तुलना में भारी है। C, D की तुलना में हल्का है। B, D की तुलना में हल्का है, लेकिन E से भारी है। इनमें सबसे भारी कौन है?

- (A) B (B) C  
(C) D (D) A

25. A, B की बहिन है। F, G की पुत्री है। C, B की माता है। D, C का पिता है। E, D की माता है। A का D से संबंध है -

- (A) पोती  
(B) बेटा  
(C) पुत्र - वधु  
(D) बहिन

26. निम्न में से असंगत को ज्ञात कीजिये -

- (A) द्वीप (B) तट  
(C) प्रायद्वीप (D) नखलिस्तान



27. Find the odd one out –  
 (A) Clove (B) Cinnamon  
 (C) Pepper (D) Apricot
28. In a certain code language, BAT is coded as 23, then how will CAT be written in the same code language?  
 (A) 22 (B) 23  
 (C) 24 (D) 25
29. There are deer and peacocks in a zoo. By counting heads, they are 80. The number of their legs is 200. How many peacocks are there?  
 (A) 20 (B) 30  
 (C) 50 (D) 60
30. Gunjan spends 75% of his salary and saves ₹1500/- per month. His monthly salary is –  
 (A) ₹5,000 (B) ₹5,500  
 (C) ₹5,900 (D) ₹6,000
31. The next digit in the series is –  
 2, 5, 9, 19, 37, ?  
 (A) 75 (B) 78  
 (C) 80 (D) 73
32. Fill in the blank -  
 SCD, TEF, UGH, .....WKL  
 (A) CMN (B) UJI  
 (C) VIJ (D) IJT
33. If Monday falls on the 1<sup>st</sup> of October, which day will fall three days after the 20<sup>th</sup> in that month?  
 (A) Monday (B) Tuesday  
 (C) Wednesday (D) Sunday
27. निम्न में से असंगत को ज्ञात कीजिए –  
 (A) लौंग (B) दालचीनी  
 (C) काली मिर्च (D) खुबानी
28. किसी कूट भाषा में BAT को 23 लिखा जाता है, तो उसी कूट भाषा में CAT को क्या लिखा जाएगा?  
 (A) 22 (B) 23  
 (C) 24 (D) 25
29. एक चिड़ियाघर में हिरण और मोर हैं। उनके सिर की गिनती 80 है। उनके पैरों की संख्या 200 है। कितने मोर हैं?  
 (A) 20 (B) 30  
 (C) 50 (D) 60
30. गुंजन अपने वेतन का 75 प्रतिशत खर्च करता है, तथा 1500 ₹ प्रतिमाह बचाता है। उसका मासिक वेतन है –  
 (A) 5,000 ₹ (B) 5,500 ₹  
 (C) 5,900 ₹ (D) 6,000 ₹
31. इस श्रृंखला में अगला अंक होगा –  
 2, 5, 9, 19, 37, ?  
 (A) 75 (B) 78  
 (C) 80 (D) 73
32. रिक्त स्थान भरो –  
 SCD, TEF, UGH, .....WKL  
 (A) CMN (B) UJI  
 (C) VIJ (D) IJT
33. यदि पहली अक्टूबर को सोमवार पड़ता है, तो उस महीने की बीस तारीख के तीन दिन बाद कौन सा वार पड़ेगा?  
 (A) सोमवार (B) मंगलवार  
 (C) बुधवार (D) रविवार

**Directions (Q.34-36):** Read the following passage and answer the questions that follow –

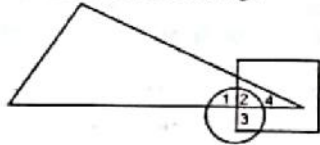
In a survey regarding a proposed measure to be introduced, 2878 persons took part of which 1652 were males, 1226 persons voted against the proposal of which 796 were males. 1425 persons voted for the proposal. 196 females were undecided.

34. How many females were not in favour of the proposal?  
 (A) 430 (B) 496  
 (C) 586 (D) 1226
35. How many males were undecided?  
 (A) 31 (B) 227  
 (C) 426 (D) 581
36. How many females voted for the proposal?  
 (A) 430 (B) 600  
 (C) 624 (D) 640
37. Observe the given pattern and find the missing number –
- |    |    |     |
|----|----|-----|
| 8  | 10 | 12  |
| 3  | ?  | 5   |
| 48 | 80 | 120 |
- (A) 2 (B) 3  
 (C) 4 (D) 5
38. What will be the probability of getting an even number in tossing a dice?  
 (A) 1/4 (B) 1/6  
 (C) 1/3 (D) 1/2
39. If four dozen of oranges cost ₹160, then what is the cost of three oranges?  
 (A) ₹8  
 (B) ₹9  
 (C) ₹11  
 (D) None of these
34. कितनी औरतें प्रस्ताव के हित में नहीं थीं?  
 (A) 430 (B) 496  
 (C) 586 (D) 1226
35. कितने आदमी दुविधा में थे?  
 (A) 31 (B) 227  
 (C) 426 (D) 581
36. कितनी औरतों ने विधेयक के हित में मत दिया?  
 (A) 430 (B) 600  
 (C) 624 (D) 640
37. दिए गए प्रतिमान का अनुसरण करें और विलुप्त अंक बतायें –
- |    |    |     |
|----|----|-----|
| 8  | 10 | 12  |
| 3  | ?  | 5   |
| 48 | 80 | 120 |
- (A) 2 (B) 3  
 (C) 4 (D) 5
38. एक पासे को उछालने पर सम संख्या की आने की प्रायिकता क्या होगी?  
 (A) 1/4 (B) 1/6  
 (C) 1/3 (D) 1/2
39. यदि 4 दर्जन संतरो की लागत 160 ₹ हो, तो 3 संतरो की लागत कितनी होगी?  
 (A) 8 ₹  
 (B) 9 ₹  
 (C) 11 ₹  
 (D) इनमें से कोई नहीं

40. The calendar for 1990 is the same as for -  
 (A) 1997 (B) 2001  
 (C) 2000 (D) 1996

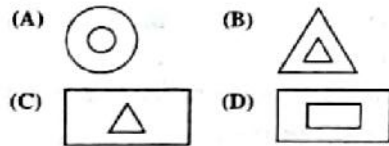
41. 'Dog' is related to 'Kennel', in the same way as 'Bird' is related to .....  
 Choose the best option -  
 (A) Pen (B) Chirp  
 (C) Tree (D) Cage

42. In the given diagram below, circle represents strong men, square represents tall men, triangle represents army officers. Which region represents army officers who are tall but not strong?



- (A) 1 (B) 3  
 (C) 4 (D) 2

43. Which of the following is different from the other figures?

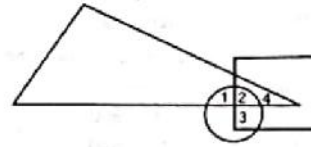


44. Deepak is the brother of Ravi. Rekha is the sister of Atul. Ravi is the son of Rekha. Then how is Deepak related to Rekha?  
 (A) Son  
 (B) Brother  
 (C) Nephew  
 (D) None of these

40. सन् 1990 का पंचाग किस सन् के समान है?  
 (A) 1997 (B) 2001  
 (C) 2000 (D) 1996

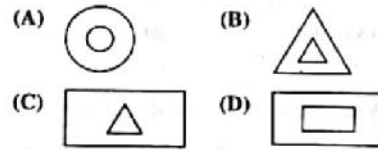
41. 'कुत्ता' संबंधित है 'कुत्ता-घर' से, उसी प्रकार 'चिड़िया' संबंधित है ..... से।  
 सबसे उपयुक्त विकल्प चुने -  
 (A) कलम (B) कलरव  
 (C) पेड़ (D) पिंजरे

42. नीचे दी गई आकृति में, वृत्त बताता है शक्तिशाली पुरुष, वर्ग बताता है ऊँचे पुरुष, त्रिकोण बताता है सैनिक अधिकारी। कौन-सा क्षेत्र सैनिक अधिकारी बताता है, जो ऊँचे हैं पर शक्तिशाली नहीं हैं?



- (A) 1 (B) 3  
 (C) 4 (D) 2

43. निम्नांकित आकृतियों में से कौन शेष से भिन्न है?



44. दीपक रवि का भाई है। रेखा अतुल की बहिन है। रवि रेखा का पुत्र है। तो दीपक का रेखा से क्या संबंध है?  
 (A) पुत्र  
 (B) भाई  
 (C) भतीजा  
 (D) इनमें से कोई नहीं

45. In a certain code language,  
 (i) 'pit na som' means 'bring me water'.  
 (ii) 'na jo tod' means 'water is life'.  
 (iii) 'tub od pit' means 'give me toy'.  
 (iv) 'jo lin kat' means 'life and death'.

Which of the following represents 'is' in that language?

- (A) jo (B) na  
 (C) tod (D) lin

46. Simple interest on ₹3,600 at 7.5% per annum for 2 years 4 months is -  
 (A) ₹605  
 (B) ₹610  
 (C) ₹620  
 (D) None of these

47. A goods train runs at a speed of 72km/hr and crosses a 250m long platform in 26 seconds. What is the length of the goods train?  
 (A) 240m (B) 250m  
 (C) 270m (D) 300m

48. Nitin ranks 18<sup>th</sup> in a class of 49 students. What is his rank from the last?  
 (A) 31 (B) 18  
 (C) 32 (D) 19

49. Find the odd one out -  
 (A) Crusade (B) Campaign  
 (C) Expedition (D) Cruise

50. Which of the following is the smallest number?  
 (A) 15/16 (B) 16/6  
 (C) 7/8 (D) 11/12

45. एक निश्चित कूट भाषा में,  
 (i) 'pit na som' का अर्थ है 'bring me water'.  
 (ii) 'na jo tod' का अर्थ है 'water is life'.  
 (iii) 'tub od pit' का अर्थ है 'give me toy'.  
 (iv) 'jo lin kat' का अर्थ है 'life and death'.

उपरोक्त भाषा में 'is' किसको इंगित करता है?

- (A) jo (B) na  
 (C) tod (D) lin

46. 3,600 ₹ पर 7.5 प्रतिशत वार्षिक ब्याज दर से 2 वर्ष 4 माह का साधारण ब्याज होगा -  
 (A) 605 ₹  
 (B) 610 ₹  
 (C) 620 ₹  
 (D) इनमें से कोई नहीं

47. एक मालगाड़ी 72 कि.मी. प्रति घंटे की रफ्तार से चल रही है और वह 250 मी. लंबे एक प्लेटफॉर्म को 26 सेकेंड्स में पार कर लेती है, तो मालगाड़ी की लम्बाई कितनी होगी?  
 (A) 240 मी (B) 250 मी.  
 (C) 270 मी. (D) 300 मी.

48. छात्रों की कक्षा में नितिन 18<sup>वें</sup> स्थान पर है। उसका पीछे से कौन सा स्थान होगा?  
 (A) 31 (B) 18  
 (C) 32 (D) 19

49. असंगत को ज्ञात कीजिए -  
 (A) धर्मयुद्ध (B) अभियान  
 (C) खोज यात्रा (D) समुद्र पर्यटन

50. इनमें से सबसे छोटा अंक कौन सा है?  
 (A) 15/16 (B) 16/6  
 (C) 7/8 (D) 11/12



Part-B / भाग-ब

GENERAL AWARENESS OF RAJASTHAN / राजस्थान की सामान्य जानकारी

51. The rulers of which dynasty ruled over artistic splendour city 'Chandrawati' during 11<sup>th</sup> and 12<sup>th</sup> centuries?  
 (A) Gurjara - Pratihara  
 (B) Parmars of Abu  
 (C) Chauhans of Sambhar  
 (D) Guhil - Sisodia
52. Kshetrapal, an important aspect of culture of Rajasthan, is worshiped as -  
 (A) A village deity  
 (B) A village officer  
 (C) An ancestor  
 (D) A saint
53. Which of the following musical instrument, is not a chordophone instrument?  
 (A) Algoza (B) Kamayacha  
 (C) Jantar (D) Ravanahatha
54. Which is the smallest district of Rajasthan as per area?  
 (A) Dholpur  
 (B) Bharatpur  
 (C) Karauli  
 (D) Sawai Madhopur
55. The apex academic organization for educational planning, implementation and evaluation for school and teacher education in Rajasthan is -  
 (A) RSCERT, Udaipur  
 (B) IASE, Bikaner  
 (C) DIET, Jaipur  
 (D) RIE, Ajmer
51. वैभवशाली कलात्मक नगरी 'चन्द्रावती' पर 11वीं एवं 12वीं शताब्दियों में किस वंश के शासकों का शासन रहा?  
 (A) गुर्जर - प्रतिहार  
 (B) आबू के परमार  
 (C) सांभर के चौहान  
 (D) गुहिल - सिसोदिया
52. क्षेत्रपाल, राजस्थान की संस्कृति का एक महत्वपूर्ण पहलू, पूजा जाता है -  
 (A) ग्राम देवता के रूप में  
 (B) ग्राम अधिकारी के रूप में  
 (C) एक पूर्वज के रूप में  
 (D) एक सत्त के रूप में
53. निम्नलिखित में से कौनसा वाद्य-यंत्र, तत् वाद्य नहीं है?  
 (A) अलगोजा (B) कामायचा  
 (C) जंतर (D) रावण हत्था
54. राजस्थान में क्षेत्रफल की दृष्टि से सबसे छोटा जिला कौनसा है?  
 (A) धौलपुर  
 (B) भरतपुर  
 (C) करौली  
 (D) सवाई माधोपुर
55. राजस्थान में विद्यालय एवं व्यापक शिक्षा योजना निर्माण, क्रियान्वयन एवं मूल्यांकन के लिए सर्वोच्च शैक्षिक संगठन है -  
 (A) आर. एस. सी. ई. आर. टी., उदयपुर  
 (B) आई. ए. एस. ई., बीकानेर  
 (C) डी. आई. ई. टी. (डाइट), जयपुर  
 (D) आर. आई. ई., अजमेर

56. The period of which ruler of Kota, is supposed to be the excellent period for the Kota School of Painting?  
 (A) Maharao Shatru Sal Singh I  
 (B) Maharao Kishor Singh  
 (C) Maharao Shatru Sal Singh II  
 (D) Maharao Umed Singh I
57. Maharaja Sawai Jai Singh of Jaipur built the observatories at which places?  
 (Select the right group)  
 (A) Jaipur, Varanasi, Ujjain, Allahabad, Patna  
 (B) Jaipur, Varanasi, Ujjain, Mathura, Delhi  
 (C) Amber, Bundi, Delhi, Allahabad, Ahmedabad  
 (D) Jaipur, Ujjain, Mathura, Jhansi, Patna
58. How many members are elected in the Indian Parliament from Rajasthan?  
 (A) 20 (B) 25  
 (C) 40 (D) 35
59. Where was the center of Revolt of 1857 in Rajasthan?  
 (A) Jaipur  
 (B) Jaisalmer  
 (C) Sri Ganganagar  
 (D) Nasirabad
60. Which of the following is the correct pair of rivers of Rajasthan falling in the Bay of Bengal?  
 (A) Kalisindh and Jawai  
 (B) Mahi and Parvati  
 (C) Luni and Chambal  
 (D) Kalisindh and Gambhiri
61. Falku Bai is associated with -  
 (A) Bhavai Dance  
 (B) Chari Dance  
 (C) Kalbelia Dance  
 (D) Terah Taali Dance
56. कोटा के किस शासक के काल को, कोटा स्कूल की चित्रशैली का उत्कृष्ट काल माना जा सकता है?  
 (A) महाराव शत्रुसाल सिंह I  
 (B) महाराव किशोर सिंह  
 (C) महाराव शत्रुसाल सिंह II  
 (D) महाराव उम्मेद सिंह I
57. जयपुर के महाराजा सवाई जयसिंह ने किन स्थलों पर वेधशालाओं का निर्माण कराया था?  
 (सही समूह का चयन करें)  
 (A) जयपुर, वाराणसी, उज्जैन, इलाहाबाद, पटना  
 (B) जयपुर, वाराणसी, उज्जैन, मथुरा, दिल्ली  
 (C) आमेर, बुंदी, दिल्ली, इलाहाबाद, अहमदाबाद  
 (D) जयपुर, उज्जैन, मथुरा, झांसी, पटना
58. भारतीय संसद में राजस्थान से कितने सदस्य चुने जाते हैं?  
 (A) 20 (B) 25  
 (C) 40 (D) 35
59. राजस्थान में 1857 की क्रांति का केन्द्र कहाँ था?  
 (A) जयपुर  
 (B) जैसलमेर  
 (C) श्रीगंगानगर  
 (D) नसीराबाद
60. बंगाल की खाड़ी में गिरने वाली राजस्थान की नदियों का सही युग्म निम्न में से कौन सा है?  
 (A) कालीसिन्ध एवं जवाई  
 (B) माही एवं पार्वती  
 (C) लूनी एवं चबल  
 (D) कालीसिन्ध और गम्भीरी
61. फल्कू बाई संबंधित है -  
 (A) भवाई नृत्य से  
 (B) चरी नृत्य से  
 (C) कालबेलिया नृत्य से  
 (D) तेरहताली नृत्य से

62. Where are "Kirti Stambh" and "Vijay Stambh" situated?  
 (A) Chittorgarh (B) Rajgarh  
 (C) Jodhpur (D) Barmer
63. To which place, martyr Bhil girl Kali Bai was associated?  
 (A) Rastopal (B) Sagwara  
 (C) Bichhiwara (D) Gorakheda
64. What is the sex ratio of women, as compared to 1000 men in Rajasthan, according to the Census of 2011?  
 (A) 921 (B) 928  
 (C) 955 (D) 917
65. The Plateau of Bhorat is spread in which districts of Rajasthan?  
 (A) Udaipur, Rajsamand  
 (B) Banswara, Dungarpur  
 (C) Dungarpur, Pratapgarh  
 (D) Chittorgarh, Udaipur
66. Which of the following pairs of districts has lowest literacy rate as per 2011 Census in Rajasthan?  
 (A) Sirohi and Pratapgarh  
 (B) Jalore and Banswara  
 (C) Jalore and Sirohi  
 (D) Jalore and Pratapgarh
67. Which city is situated at the bank of river Ghaggar?  
 (A) Hanumangarh (B) Ramgarh  
 (C) Ajmer (D) Jaipur
68. Which district of Rajasthan has highest literacy rate according to Census 2011?  
 (A) Jaipur (B) Kota  
 (C) Sikar (D) Alwar
62. ✓ कीर्तिस्तम्भ एवं विजय स्तम्भ कहीं स्थित है?  
 (A) चित्तौड़गढ़ (B) राजगढ़  
 (C) जोधपुर (D) बाड़मेर
63. ✓ शहीद भील बालिका कालीबाई, निम्न में से किस स्थान से सम्बद्ध थी?  
 (A) रास्तापाल (B) सागवाड़ा  
 (C) बिछीवाड़ा (D) गोराखेड़ा
64. ✓ राजस्थान में वर्ष 2011 की जनगणना के अनुसार, 1000 पुरुषों के मुकाबले में, स्त्रियों की संख्या का लिंगानुपात कितना है?  
 (A) 921 (B) 928  
 (C) 955 (D) 917
65. ✓ भोरट का पठार राजस्थान के किन जिलों में फैला हुआ है?  
 (A) उदयपुर, राजसमन्द  
 (B) बॉसवाड़ा, डूंगरपुर  
 (C) डूंगरपुर, प्रतापगढ़  
 (D) चित्तौड़गढ़, उदयपुर
66. ✓ जनगणना 2011 के अनुसार राजस्थान के निम्नलिखित में से किन जिलों के जोड़े में सबसे कम साक्षरता दर है?  
 (A) सिरौही और प्रतापगढ़  
 (B) जालौर और बॉसवाड़ा  
 (C) जालौर और सिरौही  
 (D) जालौर और प्रतापगढ़
67. ✓ घग्गर नदी के किनारे बसा नगर कौन सा है?  
 (A) हनुमानगढ़ (B) रामगढ़  
 (C) अजमेर (D) जयपुर
68. ✓ 2011 की जनगणना के अनुसार राजस्थान के किस जिले की सर्वाधिक साक्षरता दर है?  
 (A) जयपुर (B) कोटा  
 (C) सीकर (D) अलवर

69. Who is credited to popularise the Manganiyar and Langa folk artists?  
 (A) Komal Kothari  
 (B) Devi Lal Samar  
 (C) Col. James Tod  
 (D) Kripal Singh Shekhawat
70. Which folk deity's wife became Sati after the death of her husband?  
 (A) Mallinath (B) Harbuji  
 (C) Tejjaji (D) Devji
71. Which of the following crop of Rajasthan does not benefit from 'Mavath'?  
 (A) Wheat (B) Gram  
 (C) Mustard (D) Cotton
72. When is the song 'Jala' sung by women?  
 (A) At the time of well worship  
 (B) On the occasion of Jal Jhulani Ekadashi  
 (C) On visiting the bridegroom's wedding place  
 (D) On the occasion of Teej worship
73. One of the famous attractions for tourists in Rajasthan is Mandawa town, which is famous for -  
 (A) Military Museum  
 (B) A group of temples  
 (C) Royal Palaces  
 (D) Painted Havelis and Murals
74. The famous painter Baldeo, who painted the manuscript of 'Sheikh Saadi ki Gulistan', belonged to which style of painting of Rajputana?  
 (A) Bundi (B) Alwar  
 (C) Deogarh (D) Kishangarh
69. ✓ मांगणियार एवं लंगा लोक कलाकारों को प्रख्यात करने का श्रेय किसे दिया जाता है?  
 (A) कोमल कोठारी  
 (B) देवीलाल सामर  
 (C) कर्नल जेम्स टॉड  
 (D) कृपाल सिंह शेखावत
70. किस लोक देवता की पत्नी उनकी मृत्यु के बाद सती हो गई?  
 (A) मल्लीनाथ (B) हडबूजी  
 (C) तेजाजी (D) देवजी
71. ✓ राजस्थान की निम्न में से कौन सी फसल 'मावठ' से लाभान्वित नहीं होती है?  
 (A) गेहूँ (B) चना  
 (C) सरसों (D) कपास
72. ✓ जला गीत स्त्रियों द्वारा कब गाया जाता है?  
 (A) कुँआ पूजन के समय  
 (B) जलझूलनी एकादशी के अवसर पर  
 (C) वर की बारात का डेरा देखने जाने पर  
 (D) तीज पूजन के अवसर पर
73. ✓ राजस्थान का मण्डावा कस्बा पर्यटकों के लिए आकर्षण का केन्द्र है, जो प्रसिद्ध है -  
 (A) सैन्य संग्रहालय के लिए  
 (B) मंदिर समूह के लिए  
 (C) राजप्रासादों के लिए  
 (D) चित्रित हवेलियों एवं भित्तिचित्रों के लिए
74. ✓ शेखसादी की गुलिस्ता की पाण्डुलिपि को चित्रित करने वाला बलदेव, राजपूताना की किस चित्रशैली से संबंधित था?  
 (A) बूँदी (B) अलवर  
 (C) देवगढ़ (D) किशंगढ़



75. Who is the author of 'Bhartiya Prachin Lipimala'?
- (A) Gaurishankar Hirachand Ojha  
(B) Bishweshwar Nath Reu  
(C) Ramkaran Asopa  
(D) Muni Jinvijay
76. 'Jhamarkotra Mines' is famous for -
- (A) Lead-Zinc  
(B) Rock Phosphate  
(C) Calcite  
(D) Uranium
77. The author of Rankhar is -
- (A) Nand Bhardwaj  
(B) Malchand Tiwari  
(C) Jitendra Kumar Soni  
(D) Madhu Acharya 'Ashawadi'
78. Which was the last Princely State of Rajputana, accepting subjugation of East India Company?
- (A) Kota (B) Udaipur  
(C) Sirohi (D) Jodhpur
79. Out of the following which one is not the example of folk - painting?
- (A) Phad  
(B) Bani - Thani  
(C) Pathwari  
(D) Sanjhi
80. Who was the first excavator of Kalibangan?
- (A) S.R. Rao  
(B) A. Ghosh  
(C) B.K. Thapar  
(D) R.C. Agarwal
81. Where is Darrah Wildlife Sanctuary situated?
- (A) Ajmer (B) Kota  
(C) Dholpur (D) Jodhpur
75. भारतीय प्राचीन लिपिमाला के लेखक कौन हैं?
- (A) गौरीशंकर हीराचन्द ओझा  
(B) विश्वेश्वर नाथ रेऊ  
(C) रामकर्ण आसोपा  
(D) मुनि जिनविजय
76. 'झामरकोटडा खाने' प्रसिद्ध है -
- (A) सीसा-जस्ता के लिए  
(B) रॉक-फॉस्फेट के लिए  
(C) कैल्साइट के लिए  
(D) यूरेनियम के लिए
77. 'रणखार' के लेखक हैं -
- (A) नंद भारद्वाज  
(B) मालचंद तियाड़ी  
(C) जितेंद्र कुमार सोनी  
(D) मधु आचार्य 'आशावादी'
78. राजपूताना की अंतिम रियासत कौन सी थी, जिसने ब्रिटिश ईस्ट इण्डिया कंपनी की अधीनता को स्वीकार किया?
- (A) कोटा (B) उदयपुर  
(C) सिरौही (D) जोधपुर
79. निम्न में से कौन एक लोक चित्रकला का उदाहरण नहीं है?
- (A) फड  
(B) बनी - ठणी  
(C) पथवारी  
(D) सांझी
80. कालीबंगा का प्रथम उत्खननकर्ता कौन था?
- (A) एस.आर. राव  
(B) ए. घोष  
(C) बी.के. थापर  
(D) आर.सी. अग्रवाल
81. दर्राह वन्यजीव अभ्यारण्य कहाँ स्थित है?
- (A) अजमेर (B) कोटा  
(C) धौलपुर (D) जोधपुर

82. With which of the following dances, musical instrument Jhanjh is used?
- (A) Kachchi Ghodi dance  
(B) Bomb dance  
(C) Terah Taali dance  
(D) Gavari dance
83. In which district of Rajasthan, the famous Amar Sagar Jain Temple is situated?
- (A) Barmer (B) Jaisalmer  
(C) Jodhpur (D) Pali
84. The Secretary of Gram Panchayat is -
- (A) Patwari  
(B) Sarpanch  
(C) Up - Sarpanch  
(D) Gram Sewak
85. Who is the Chairman of West Zone Cultural Center, Udaipur?
- (A) Governor of Rajasthan  
(B) Chief Minister of Rajasthan  
(C) Tourism Minister of Rajasthan  
(D) Divisional Commissioner of Udaipur
86. The boundary of Rajasthan touches how many state boundaries?
- (A) 5 (B) 6  
(C) 4 (D) 3
87. Which two districts of Rajasthan have population density more than 500 persons per square kilometre? (As per census 2011)
- (A) Jaipur, Dausa  
(B) Jaipur, Bharatpur  
(C) Jaipur, Alwar  
(D) Jaipur, Banswara
88. Which dynasties were ruling in Delhi during the reign of Maharana Kumbha?
- (A) Slave - Khilji Dynasties  
(B) Tughlaq - Sayyid Dynasties  
(C) Sayyid - Lodi Dynasties  
(D) Lodi - Mughal Dynasties
82. निम्नलिखित में से किस नृत्य के साथ झांझ नामक वाद्य यंत्र का प्रयोग किया जाता है?
- (A) कच्ची घोड़ी नृत्य  
(B) बम नृत्य  
(C) तेरहताली नृत्य  
(D) गवरी नृत्य
83. प्रसिद्ध अमर सागर जैन मंदिर, राजस्थान के किस जिले में अवस्थित है?
- (A) बाड़मेर (B) जैसलमेर  
(C) जोधपुर (D) पाली
84. ग्राम पंचायत का सचिव होता है -
- (A) पटवारी  
(B) सरपंच  
(C) उप-सरपंच  
(D) ग्राम सेवक
85. पश्चिम क्षेत्र सांस्कृतिक केंद्र, उदयपुर के समापति कौन हैं?
- (A) राजस्थान के राज्यपाल  
(B) राजस्थान के मुख्यमंत्री  
(C) राजस्थान के पर्यटन मंत्री  
(D) उदयपुर के संभागीय आयुक्त
86. राजस्थान की सीमा कितने राज्यों की सीमाओं से मिलती है?
- (A) 5 (B) 6  
(C) 4 (D) 3
87. राजस्थान के कौन से दो जिलों में जनसंख्या घनत्व 500 व्यक्ति प्रति वर्ग कि.मी. से अधिक है? (जनगणना 2011 के अनुसार)
- (A) जयपुर, दौसा  
(B) जयपुर, भरतपुर  
(C) जयपुर, अलवर  
(D) जयपुर, बॉंसवाड़ा
88. महाराणा कुम्भा के शासन काल में दिल्ली सल्तनत में किन राजवंशों का शासन था?
- (A) दास - खिलजी वंश  
(B) तुगलक - सैयद वंश  
(C) सैयद - लोदी वंश  
(D) लोदी - मुगल वंश



89. Famous tourist place 'Samode Palace' is situated in which district of Rajasthan?  
 (A) Jaipur (B) Alwar  
 (C) Bharatpur (D) Tonk
90. What is approximate percentage of Rajasthan's surface area to the surface area of India?  
 (A) 11% (B) 8%  
 (C) 15% (D) 5%
91. Which of the following districts of Rajasthan has shortest international boundary?  
 (A) Jaisalmer (B) Bikaner  
 (C) Barmer (D) Ganganagar
92. When was "Rajasthan Housing Board" established to cater the housing needs in the State?  
 (A) 08 March, 2008  
 (B) 24 February, 1970  
 (C) 31 July, 1997  
 (D) 02 October, 1986
93. Match the List - I to List - II and choose the correct answer from the codes given below the lists -
- | List - I (Author)  | List - II (Book)      |
|--------------------|-----------------------|
| I. Karnidaan       | a. Ajitodaya          |
| II. Daulat Vijay   | b. Kanhadade Prabandh |
| III. Padmanabh     | c. Khuman Raso        |
| IV. Jagjivan Bhatt | d. Suraj Prakash      |
- Code -
- | I     | II | III | IV |
|-------|----|-----|----|
| (A) d | c  | b   | a  |
| (B) b | a  | d   | c  |
| (C) a | b  | c   | d  |
| (D) d | a  | b   | c  |
89. प्रसिद्ध पर्यटक स्थल 'सामोद महल' राजस्थान के किस जिले में स्थित है?  
 (A) जयपुर (B) अलवर  
 (C) भरतपुर (D) टोक
90. राजस्थान का क्षेत्रफल भारत के क्षेत्रफल के कितने प्रतिशत के लगभग है?  
 (A) 11% (B) 8%  
 (C) 15% (D) 5%
91. निम्नलिखित में से राजस्थान के किस जिले की अंतर्राष्ट्रीय सीमा सबसे छोटी है?  
 (A) जैसलमेर (B) बीकानेर  
 (C) बाड़मेर (D) गंगानगर
92. राज्य में आवास संबंधी आवश्यकताओं की पूर्ति हेतु "राजस्थान आवासन मण्डल" की स्थापना कब की गई?  
 (A) 08 मार्च, 2008  
 (B) 24 फरवरी, 1970  
 (C) 31 जुलाई, 1997  
 (D) 02 अक्टूबर, 1986
93. सूची - I को सूची - II से सुमेलित कीजिए और सूचियों के नीचे दिए गए कूटों से सही उत्तर का चयन कीजिए -
- | सूची - I (लेखक) | सूची - II (ग्रंथ)  |
|-----------------|--------------------|
| I. करणीदान      | a. अजितोदय         |
| II. दौलत विजय   | b. कान्हडदे प्रबंध |
| III. पद्मानभ    | c. खुमान रासो      |
| IV. जगजीवन भट्ट | d. सूरज प्रकाश     |
- कूट -
- | I     | II | III | IV |
|-------|----|-----|----|
| (A) d | c  | b   | a  |
| (B) b | a  | d   | c  |
| (C) a | b  | c   | d  |
| (D) d | a  | b   | c  |

94. The founder of the Sirohi Rajya Prajamandal was -  
 (A) Kanhaiya Lal Mittal  
 (B) Bhupendranath Trivedi  
 (C) Gokul Bhai Bhatt  
 (D) Mitha Lal Vyas
95. The maximum number of members in the Council of Ministers in Rajasthan can be -  
 (A) 25 (B) 30  
 (C) 35 (D) 40
96. Which part of the State is chiefly inhabited by Bhil Tribe?  
 (A) Northern part  
 (B) Eastern part  
 (C) Southern part  
 (D) Western part
97. Among the cash crops in Rajasthan, the 'Nerma' type is related to -  
 (A) Sugarcane (B) Cotton  
 (C) Tobacco (D) Jojoba
98. Rajputana Madhya Bharat Sabha was founded in which year?  
 (A) 1919 (B) 1924  
 (C) 1905 (D) None of these
99. Who among the following was not a ruler of the Jodhpur State?  
 (A) Jaswant Singh  
 (B) Ajit Singh  
 (C) Anoop Singh  
 (D) Mota Raja Udai Singh
100. In which Assembly Election, the strength of Rajasthan Legislative Assembly was raised from 184 to 200?  
 (A) Fourth (B) Fifth  
 (C) Sixth (D) Seventh
94. सिरोंही राज्य प्रजामण्डल का संस्थापक था -  
 (A) कन्हैयालाल मिश्र  
 (B) भूपेन्द्र नाथ त्रिवेदी  
 (C) गोकुल भाई भट्ट  
 (D) मीठालाल व्यास
95. राजस्थान में मंत्रिपरिषद के सदस्यों की अधिकतम संख्या होती है -  
 (A) 25 (B) 30  
 (C) 35 (D) 40
96. भील जनजाति राज्य के किस भाग में मुख्यतः निवास करती है?  
 (A) उत्तरी भाग में  
 (B) पूर्वी भाग में  
 (C) दक्षिणी भाग में  
 (D) पश्चिमी भाग में
97. राजस्थान में व्यापारिक फसलों में 'नरमा' किस फसल संबंधित है -  
 (A) गन्ना से (B) कपास से  
 (C) तंबाकू से (D) जोजोबा से
98. राजपूताना मध्य भारत सभा की स्थापना कब हुई?  
 (A) 1919 (B) 1924  
 (C) 1905 (D) इनमें से कोई नहीं
99. निम्नलिखित में से कौन जोधपुर राज्य का शासक नहीं था?  
 (A) जसवंत सिंह  
 (B) अजित सिंह  
 (C) अनूप सिंह  
 (D) मोटा राजा उदय सिंह
100. किस विधानसभा चुनाव में, राजस्थान विधानसभा की सदस्य संख्या 184 से बढ़ाकर 200 की गई?  
 (A) चौथा (B) पाँचवाँ  
 (C) छठा (D) सातवाँ



Part-C / भाग-स  
TEACHING APTITUDE / शिक्षण अभिक्षमता

101. The reason for under developed speech and language is -  
(A) Deafness after the knowledge of language  
(B) Lack of proper training  
(C) Deafness since birth  
(D) Deafness after sometime of birth
102. According to you, 'In-Service Teacher Training Programme is a good way of orientation'. This statement is -  
(A) Uncertain (B) False  
(C) True (D) Partially True
103. In the development of a student, which one of the following contributes maximum?  
(A) A good school  
(B) Textbooks  
(C) Rich parents  
(D) Eligible and dedicated teachers
104. A teacher should have which kind of attitude with his colleagues?  
(A) Negative (B) Critical  
(C) Cooperative (D) Creative
105. Main function of a teacher is -  
(A) Complete the syllabus on time  
(B) Giving effective teaching to the students  
(C) Guiding the students  
(D) Partial behaviour with the students
106. According to you, how should be the class communication?  
(A) Difficult (B) Moderate  
(C) Interesting (D) Effective
101. वाणी व भाषा का अविकसित होने का कारण है -  
(A) भाषा ज्ञान के बाद बहरापन  
(B) उचित प्रशिक्षण की कमी  
(C) जन्म से बहरापन  
(D) जन्म के कुछ समय पश्चात् बहरापन
102. आपके मतानुसार, 'सेवास्त शिक्षक प्रशिक्षण कार्यक्रम आमुखीकरण का अच्छा उपाय है'। यह कथन है -  
(A) अनिश्चित (B) असत्य  
(C) सत्य (D) आंशिक सत्य
103. बालक के विकास में निम्नलिखित में से किसका अधिकतम योगदान होता है?  
(A) अच्छे स्कूल का  
(B) पाठ्यपुस्तकों का  
(C) धनवान् माता-पिता का  
(D) योग्य व समर्पित अध्यापकों का
104. एक शिक्षक की अपने सहकर्मियों के साथ किस प्रकार की अभिवृत्ति होनी चाहिए?  
(A) नकारात्मक (B) आलोचनात्मक  
(C) सहयोगात्मक (D) रचनात्मक
105. शिक्षक का प्रमुख कार्य है -  
(A) पाठ्यक्रम समय पर पूर्ण करवाना  
(B) छात्रों को प्रभावी शिक्षा देना  
(C) छात्रों का मार्गदर्शन करना  
(D) छात्रों के साथ पक्षपातपूर्ण व्यवहार करना
106. आपके मतानुसार, कक्षा सम्मेषण कैसा होना चाहिए?  
(A) कठिन (B) सामान्य  
(C) रोचक (D) प्रभावी

107. What is the main characteristics of Continuous and Comprehensive evaluation?  
(A) It increases the work load on students.  
(B) It evaluates every aspect of the student.  
(C) It helps in reducing examination phobia.  
(D) It replaces marks with grades.
108. Students follow that teacher of the school -  
(A) Who is according to their ideals  
(B) Who is not partial  
(C) Whom they liked to meet  
(D) Who is attractive Lookingwise
109. The teacher should have command on his work so that -  
(A) Students will obtain knowledge from the teacher.  
(B) Students will be under control.  
(C) Students will go for tuition to the teacher.  
(D) Students will get proper guidance.
110. The child learns the primary lesson of responsibility from -  
(A) Home (B) School  
(C) Society (D) Self
111. For progress of the teaching profession, you will give maximum importance to -  
(A) Quality classroom teaching  
(B) Doing research work  
(C) Writing good books  
(D) To quit teaching work
112. Teachers and Head of institution are -  
(A) Competitors  
(B) Friends  
(C) Co-workers  
(D) Opponents
107. सतत एवं व्यापक मूल्यांकन की मुख्य विशेषता क्या है?  
(A) इससे विद्यार्थियों पर कार्यभार बढ़ता है।  
(B) यह विद्यार्थी के प्रत्येक पक्ष का मूल्यांकन करता है।  
(C) यह परीक्षा भय को कम करने में सहायक है।  
(D) यह अंकों को ग्रेड में बदल देता है।
108. छात्र विद्यालय के उस अध्यापक का अनुसरण करते हैं -  
(A) जो उनके आदर्शों के समान हो  
(B) जो पक्षपात नहीं करे  
(C) जिससे उन्हें मिलना अच्छा लगे  
(D) जो देखने में आकर्षक हो
109. शिक्षक को अपने कार्य में निपुण होना चाहिए, इससे -  
(A) छात्र शिक्षक से ज्ञान प्राप्त कर सकेंगे।  
(B) छात्र नियंत्रण में रहेंगे।  
(C) छात्र शिक्षक के पास ट्यूशन पढ़ने जाएंगे।  
(D) छात्रों को उचित निर्देशन मिलेगा।
110. उत्तरदायित्व की भावना का प्रारम्भिक पाठ बालक ग्रहण करता है -  
(A) घर से (B) स्कूल से  
(C) समाज से (D) स्वयं से
111. आप अध्यापन व्यवसाय की प्रगति के लिए सर्वोच्च महत्त्व प्रदान करेंगे -  
(A) गुणवत्तापूर्ण कक्षा शिक्षण  
(B) अनुसंधान कार्य करना  
(C) उत्तम पुस्तकों का लेखन  
(D) शिक्षण कार्य से पलायन
112. शिक्षक एवं संस्था प्रधान एक दूसरे के -  
(A) प्रतिस्पर्धी होते हैं।  
(B) मित्र होते हैं।  
(C) सहयोगी होते हैं।  
(D) विरोधी होते हैं।



113. While teaching in the class, if a student asks you a question and the answer to which you do not know, then what would you do?  
 (A) Make him sit after scolding.  
 (B) Say the question is wrong.  
 (C) Try to answer his question as far as possible.  
 (D) Promise to answer the next day.
114. 'For correct communication in the classroom, it is essential that your behaviour should be dramatic'. This statement is -  
 (A) Right (B) Wrong  
 (C) Probably (D) Cannot say Wrong
115. According to you, the teachers should be punctual in school, because -  
 (A) This is their duty.  
 (B) If they come on time, the students will also.  
 (C) They are role model of students.  
 (D) It is not necessary to come on time.
116. As a subject teacher, what the purpose of asking questions in the class?  
 (A) Discussion about teaching among students.  
 (B) To keep students active and attentive in the class.  
 (C) For discipline in the class.  
 (D) To improve teaching.
117. The aim of teacher should be -  
 (A) To help the students clear their examination.  
 (B) Overall development of the students.  
 (C) To develop Skilfull behaviour in students.  
 (D) To teach discrimination to students.
118. Which teaching method would you adopt to develop creativity?  
 (A) Problem-solving method  
 (B) Story method  
 (C) Lecture method  
 (D) Case history method
113. कक्षा में पढ़ाते समय एक छात्र ने आपसे एक प्रश्न पूछा, जिसका उत्तर आपको मालूम नहीं है, तो ऐसी दशा में आप क्या करेंगे?  
 (A) उसे डाटकर बिठा देंगे।  
 (B) प्रश्न को गलत कहकर चुप कर देंगे।  
 (C) उसके प्रश्न का यथासंभव उत्तर देने का प्रयास करेंगे।  
 (D) दूसरे दिन उत्तर बताने का वायदा करेंगे।
114. 'कक्षा में उचित सम्प्रेषण हेतु आवश्यक है, कि आपका व्यवहार पूर्णरूप से नाटकीय हो'। यह कथन है -  
 (A) सही (B) गलत  
 (C) संभवतः गलत (D) कह नहीं सकते
115. आपकी राय में, शिक्षकों को समय पर विद्यालय आना चाहिए, क्योंकि -  
 (A) यह उनका कर्तव्य है।  
 (B) समय पर आने पर छात्र भी समय पर आएँगे।  
 (C) वे छात्रों के प्रेरणा स्रोत होते हैं।  
 (D) समय पर आना जरूरी नहीं है।
116. एक विषय अध्यापक के रूप में, कक्षा में प्रश्न पूछने का क्या उद्देश्य होता है?  
 (A) छात्रों में शिक्षण संबंधी विचार विमर्श हेतु।  
 (B) कक्षा में छात्रों को सक्रिय व एकाग्र रखने हेतु।  
 (C) कक्षा में अनुशासन हेतु।  
 (D) शिक्षण में सुधार हेतु।
117. शिक्षक का उद्देश्य होना चाहिए -  
 (A) छात्रों को परीक्षा उत्तीर्ण करने में सहायता करना।  
 (B) छात्रों का सर्वांगीण विकास करना।  
 (C) छात्रों के व्यवहार में कुशलता लाना।  
 (D) छात्रों को भेदभाव सिखाना।
118. आप सर्जनात्मकता के विकास हेतु कौनसी शिक्षण विधि अपनाएँगे?  
 (A) समस्या-समाधान विधि  
 (B) कहानी विधि  
 (C) व्याख्यान विधि  
 (D) व्यक्ति इतिहास विधि
119. For gaining knowledge, a teacher should be -  
 (A) Making Efforts/Zealous  
 (B) Aware  
 (C) Book collector  
 (D) Inactive
120. "School is a miniature form of the society". This statement is -  
 (A) Mostly True  
 (B) Partially True  
 (C) True  
 (D) False
121. According to you, the fundamental quality of a teacher is -  
 (A) Cheerful nature  
 (B) Attractive dressing  
 (C) Good personality  
 (D) Knowledge of teaching methods
122. How can the Corrective Method be encouraged?  
 (A) By Play-Way method  
 (B) By Independent study  
 (C) By audio - visual aids  
 (D) By dramatic way
123. If all the students are not giving correct answers in your class, then what will you do?  
 (A) Explain them.  
 (B) Give them homework.  
 (C) Complain to their parents.  
 (D) Repeat the lesson in the class.
124. To eradicate social evils you would -  
 (A) To aware people.  
 (B) Take resolution.  
 (C) Do nothing.  
 (D) Bring awareness through posters.
125. Your friend's son studies in your class, your behaviour towards him will be -  
 (A) Disciplined  
 (B) Partial  
 (C) Just like an ordinary student  
 (D) Like a son
119. ज्ञानार्जन के लिए, अध्यापक को होना चाहिए -  
 (A) प्रयत्नशील  
 (B) सजग  
 (C) पुस्तक संग्रहकर्ता  
 (D) निश्चेष्ट
120. "विद्यालय समाज का एक छोटा रूप है"। यह कथन है -  
 (A) अधिकतर सत्य  
 (B) आंशिक सत्य  
 (C) सत्य  
 (D) असत्य
121. आपके मतानुसार, एक शिक्षक का मौलिक गुण है -  
 (A) हंसमुख स्वभाव  
 (B) आकर्षक वेशभूषा  
 (C) अच्छा व्यक्तित्व  
 (D) शिक्षण विधियों का ज्ञान
122. भूल सुधार पद्धति को किस प्रकार बढ़ावा दिया जा सकता है?  
 (A) खेल-विधि से  
 (B) स्वतंत्र रूप से अध्ययन द्वारा  
 (C) दृश्य-श्रव्य सामग्री द्वारा  
 (D) नाटकीय तरीके से
123. आपकी कक्षा में यदि सभी छात्र सही जवाब नहीं दे रहे हों, तो आप क्या करेंगे?  
 (A) स्पष्ट करेंगे।  
 (B) उन्हें गृहकार्य दे देंगे।  
 (C) उनके माता-पिता से शिकायत करेंगे।  
 (D) कक्षा में पाठ को दोहराएँगे।
124. सामाजिक बुराईयों को दूर करने के लिए आप -  
 (A) जनता को जागरूक करेंगे।  
 (B) संकल्प लेंगे।  
 (C) कुछ नहीं करेंगे।  
 (D) पोस्टर द्वारा जागरूकता लाएँगे।
125. आपके दोस्त का पुत्र आपकी कक्षा में पढ़ता है, उसके प्रति आपका व्यवहार होगा -  
 (A) अनुशासित  
 (B) पक्षपात पूर्ण  
 (C) सामान्य छात्र की भाँति  
 (D) पुत्र की भाँति



126. Being a teacher, you will encourage the student in order to -
- (A) Develop the Intelligence Quotient (IQ)  
(B) Make them self-dependent  
(C) Obtain higher education  
(D) Remain a Bachelor
127. Why did you decide to become a teacher?
- (A) I can earn a lot through tuitions.  
(B) I can teach my own children.  
(C) I like teaching very much.  
(D) I cannot get any other job.
128. According to you, effective teaching is a result of -
- (A) Friendly behaviour with students  
(B) Command over content and communication  
(C) Experience  
(D) Training
129. Individual or Group appreciation in technical language is called -
- (A) Discipline  
(B) Reward  
(C) Difference of opinion among the students  
(D) Helpful in skill management
130. If a child is not socialized, how he would be?
- (A) Like a beast  
(B) Unsocial  
(C) Antisocial  
(D) Fully social
131. Homework makes the student love self-learning, but along with it, it -
- (A) Develops logic and thinking power among the students.  
(B) Reduces the tendency to roam around.  
(C) Makes him/her practice the content knowledge  
(D) Causes tiredness.
126. आप एक शिक्षक के रूप में छात्रों को प्रोत्साहित करेंगे -
- (A) बौद्धिक स्तर विकसित करने हेतु  
(B) स्वावलम्बी बनने हेतु  
(C) उच्च शिक्षा प्राप्त करने हेतु  
(D) अविवाहित बने रहने हेतु
127. आपने एक शिक्षक बनना क्यों तय किया?
- (A) मैं ट्यूशन करके बहुत धन कमा सकता हूँ।  
(B) मैं अपने स्वयं के बच्चों को पढ़ा सकता हूँ।  
(C) शिक्षण कार्य मुझे अत्यधिक प्रिय है।  
(D) मैं कोई अन्य नौकरी नहीं पा सकता।
128. आपके मतानुसार, प्रभावी शिक्षण परिणाम है -
- (A) छात्रों से मित्रतापूर्वक व्यवहार का  
(B) पाठ्यवस्तु पर अधिकार व सम्प्रेषण का  
(C) अनुभव का  
(D) प्रशिक्षण का
129. व्यक्तिगत या सामूहिक रूप से प्रशंसा को तकनीकी भाषा में कहा जाता है -
- (A) अनुशासन  
(B) पुरस्कार  
(C) छात्रों में मतभेदता  
(D) कुशल प्रबन्ध करने में सहायक
130. यदि बालक का समाजीकरण न हो, तो वह किस प्रकार का बनेगा?
- (A) पशुवत्  
(B) गैरसामाजिक  
(C) असामाजिक  
(D) पूर्णसामाजिक
131. गृहकार्य छात्रों को स्वाध्याय प्रेमी तो बनाता है, परन्तु इसके साथ-साथ छात्रों में -
- (A) तर्क एवं विचार शक्ति उत्पन्न करता है।  
(B) घूमने की प्रवृत्ति को कम कर देता है।  
(C) विषयवस्तु ज्ञान का अभ्यास कराता है।  
(D) धकान उत्पन्न करता है।

132. Leadership is a special process, for which two best words are -
- (A) Dominating - Subordination  
(B) Dominating - Administration  
(C) Dominating - Slavery  
(D) Dominating - Follow
133. Evaluation of students becomes essential for a teacher, because -
- (A) The school pays the teacher for this  
(B) This is mentioned in rules and regulations of the government  
(C) Learning abilities of students can be known  
(D) This maintains Coordination between learning abilities and remedial situations
134. Before entering the class to teach, I will -
- (A) Make my mood cheerful.  
(B) Gaze at my face in the mirror.  
(C) Carry the teaching aids for today's lesson.  
(D) Organize my lesson plan.
135. It is very important for teaching profession -
- (A) Constant learning  
(B) Higher recommendations  
(C) Teaching aptitude  
(D) Higher percentage of marks
136. Being a teacher, will you suggest your son to become a teacher?
- (A) No, because there is nothing in this profession.  
(B) Yes, if he willingly gives his consent for it.  
(C) Cannot say  
(D) Yes
137. According to you, priority of the need of improvement in the present education system is -
- (A) Commercialization of education  
(B) Change in evaluation system  
(C) More use of computers in education  
(D) Change in the curriculum
132. नेतृत्व एक विशेष प्रक्रिया का नाम है, जिसके लिए दो उत्कृष्ट शब्द हो सकते हैं -
- (A) प्रभुत्व - अधीनता  
(B) प्रभुत्व - प्रशासन  
(C) प्रभुत्व - गुलामी  
(D) प्रभुत्व - अनुगमन
133. शिक्षक के लिए विद्यार्थी का मूल्यांकन कार्य करना इसलिए आवश्यक हो जाता है, क्योंकि -
- (A) इसके लिए विद्यालय उसे वेतन का भुगतान करता है।  
(B) यह सरकार के नियम और विनियमन में अलिखित होता है।  
(C) इससे विद्यार्थियों की अधिगम क्षमता का ज्ञान होता रहता है।  
(D) अधिगम क्षमता एवं उपचारात्मक स्थिति दोनों में सामंजस्य बना रहता है।
134. कक्षा में शिक्षण हेतु प्रवेश करने से पूर्व, मैं -
- (A) अपने को प्रसन्नचित बनाऊँगा।  
(B) दर्पण में अपना चेहरा निहारूँगा।  
(C) आज के पाठ की शिक्षण सहायक सामग्री साथ लेकर जाऊँगा।  
(D) अपनी पाठ्य योजना व्यवस्थित करूँगा।
135. शिक्षण व्यवसाय के लिए अत्यन्त महत्त्वपूर्ण है -
- (A) अध्ययनशीलता  
(B) ऊँची सिफारिशें  
(C) शिक्षण अभिक्षमता  
(D) अंकों का उच्च प्रतिशत
136. एक शिक्षक होने के नाते, क्या आप अपने पुत्र को शिक्षक बनने को कहेंगे?
- (A) नहीं, क्योंकि इस व्यवसाय में कुछ नहीं रखा है।  
(B) हाँ, यदि वह स्वेच्छा से इसके लिए सहमत होता है।  
(C) कह नहीं सकते।  
(D) हाँ
137. आपकी राय में, वर्तमान शिक्षा व्यवस्था में सुधार की आवश्यकता की प्राथमिकता है -
- (A) शिक्षा का व्यावसायीकरण  
(B) मूल्यांकन व्यवस्था में बदलाव  
(C) शिक्षा में कम्प्यूटर का अधिकाधिक प्रयोग  
(D) पाठ्यक्रम में बदलाव



138. The foundation of leadership is -  
 (A) Appreciation  
 (B) Desire to serve  
 (C) Welfare of the group  
 (D) Nothing can be said
139. Social maturity means -  
 (A) Ripening of the child like a fruit.  
 (B) Development of wisdom in the child.  
 (C) Development of social efficiencies in the child.  
 (D) Presentation of a balanced social behaviour by the child, like amongst adults.
140. Base agency of social development among boys and girls is -  
 (A) School  
 (B) Parents and family  
 (C) Community  
 (D) Means of communication
141. If a student tells you about any family problems, what will you do?  
 (A) Listen to his/her problem and suggest possible solutions.  
 (B) Listen to his/her problem and give moral support.  
 (C) Ask him to discuss only study related problems.  
 (D) Ask him not to discuss family problems.
142. According to you, it is required in order to learn -  
 (A) Motivation by the teacher  
 (B) Common Sense  
 (C) Curiosity  
 (D) Reading Habit
143. According to you, education develops -  
 (A) Intellectualism  
 (B) Abilities  
 (C) Maturity  
 (D) None of these
138. नेतृत्व का बुनियादी आधार माना गया है -  
 (A) प्रशंसा  
 (B) सेवा की इच्छा  
 (C) समूह का हित  
 (D) कुछ नहीं कह सकते
139. सामाजिक परिपक्वता का अर्थ है -  
 (A) बालक का फल की भाँति पकना।  
 (B) बालक में विवेक का विकास होना।  
 (C) बालक में सामाजिक कुशलताओं का विकास होना।  
 (D) बालक का प्रौढ़ के समक्ष संतुलित सामाजिक व्यवहार का प्रदर्शन करना।
140. बालक-बालिकाओं के सामाजिक विकास का आधारभूत अभिकरण कहा जाता है -  
 (A) विद्यालय  
 (B) माता-पिता एवं परिवार  
 (C) समुदाय  
 (D) सम्प्रेषण के माध्यम
141. यदि एक विद्यार्थी आपको अपनी पारिवारिक समस्या के बारे में बताता है, तो आप क्या करेंगे?  
 (A) उसकी समस्या सुनें और उसे संभव उपाय सुझाएँगे।  
 (B) उसकी समस्या सुनें और उसे नैतिक संबल देंगे।  
 (C) उसे केवल पढ़ाई से संबंधित समस्या की चर्चा करने के लिए कहेंगे।  
 (D) उसे पारिवारिक समस्या की चर्चा नहीं करने के लिए कहेंगे।
142. आपके मतानुसार, सीखने हेतु आवश्यक है -  
 (A) अध्यापक द्वारा प्रोत्साहन  
 (B) सामान्य समझ  
 (C) जिज्ञासा  
 (D) पढ़ने की आदत
143. आपकी राय में, शिक्षा से विकसित होती है -  
 (A) बौद्धिकता  
 (B) योग्यताएँ।  
 (C) परिपक्वता  
 (D) इनमें से कोई नहीं

144. To develop the qualities of a good leader, the most important role is of -  
 (A) Political platform  
 (B) School  
 (C) Family  
 (D) Movie theatre
145. Teaching is an interacting process -  
 (A) Between teacher and parents  
 (B) Between student and teacher  
 (C) Among students  
 (D) Among teacher, students and content
146. According to you, the base of inter-personal relation is -  
 (A) Equality of thoughts  
 (B) Regionalism  
 (C) Education  
 (D) Money
147. The base of a child is formed by primary level teacher. Thus his job is -  
 (A) Crucial  
 (B) Easy  
 (C) Difficult  
 (D) Important
148. In order to develop logical ability and creative thinking among students, the teacher should do -  
 (A) Group discussion  
 (B) Seminar  
 (C) Debate  
 (D) Give lecture to the students
149. According to you, what is required for a good teacher?  
 (A) Popularity among the colleagues  
 (B) Commitment towards the teaching profession  
 (C) To be an effective explorer  
 (D) Faith towards one's own institution
150. Which of the following personal qualities of a teacher, do affect teaching?  
 (A) Sensitivity  
 (B) Social skills  
 (C) Physical Strength  
 (D) Management abilities
144. अच्छे नेता के गुणों के विकास के लिए सबसे महत्वपूर्ण भूमिका होती है -  
 (A) राजनीतिक मंच की  
 (B) विद्यालय की  
 (C) परिवार की  
 (D) सिनेमा हॉल की
145. शिक्षण एक पारस्परिक क्रिया है -  
 (A) शिक्षक व माता-पिता के मध्य  
 (B) छात्र व शिक्षक के मध्य  
 (C) छात्र व छात्र के मध्य  
 (D) शिक्षक, छात्रों और विषयवस्तु के मध्य
146. आपकी राय में, अन्तर्व्यक्तिक संबंधों का आधार है -  
 (A) विचारों की समानता  
 (B) क्षेत्रवाद  
 (C) शिक्षा  
 (D) रुपया - पैसा
147. बालक की नीव प्राथमिक स्तर के अध्यापक द्वारा निर्मित होती है। अतः उसका कार्य है-  
 (A) निर्णायक  
 (B) सरल  
 (C) कठिन  
 (D) महत्वपूर्ण
148. विद्यार्थियों में तार्किक योग्यताओं एवं सर्जनात्मक चिन्तन का विकास करने हेतु शिक्षकों को क्या करना चाहिए?  
 (A) समूह परिचर्चा  
 (B) सेमिनार  
 (C) वाद-विवाद  
 (D) छात्रों को प्रवचन देना
149. आपकी राय में, एक अच्छे शिक्षक के लिए क्या आवश्यक है?  
 (A) अपने सह-कर्मियों में लोकप्रियता  
 (B) शिक्षण कार्य के प्रति प्रतिबद्धता  
 (C) एक प्रभावी अन्वेषक होना  
 (D) अपनी संस्था के प्रति निष्ठा
150. निम्न में से शिक्षक के कौन से निजी गुण शिक्षण को प्रभावित करते हैं?  
 (A) संवेदनशीलता  
 (B) सामाजिक कुशलता  
 (C) शारीरिक शक्ति  
 (D) प्रबंध क्षमता



Part-D / भाग-द

LANGUAGE PROFICIENCY-ENGLISH / भाषा योग्यता : अंग्रेजी

Attempt all questions, choose the appropriate option from the ones given after each question -

151. Fill in the blank using correct word -  
He ..... swim when he was young.  
(A) might (B) would  
(C) could (D) None of these
152. What she said agrees ..... what I have already heard. (Preposition)  
(A) from (B) with (C) of (D) at
153. Choose the correct synonym -  
Abandon  
(A) forsake (B) receive  
(C) gift (D) grieve
154. Choose one word for the following phrase -  
'Someone appointed by two parties to settle a dispute'.  
(A) Negotiator (B) Arbiter  
(C) Mediator (D) Middleman
155. Change the following into Indirect Speech -  
She said, "My father will help me."  
(A) She said that my father will help me. (B) She said that her father would help her.  
(C) She said that her father will help her. (D) She said that my father would help her.
156. Choose the correct article -  
Edward said he is ..... European.  
(A) an (B) the  
(C) a (D) None of the above
157. Choose the correctly spelt word -  
(A) Perceive (B) Parceive  
(C) Percieve (D) Perceave
158. Which part of the sentence has error in it?  
The rise and fall/of the tide/are due/to lunar influence.  
(A) The rise and fall (B) of the tide  
(C) are due (D) to lunar influence
159. Choose the correct antonym for the word 'Malice' -  
(A) Honour (B) Ecstasy  
(C) Goodwill (D) Happiness
160. An average cow ..... one thousand four hundred ponds.  
(A) weighs (B) weigh  
(C) weighed (D) will weigh

161. Identify the kind of sentence -  
What a fool you are!  
(A) Assertive Sentence (B) Interrogative Sentence  
(C) Exclamatory Sentence (D) Imperative Sentence
162. Change to direct speech -  
He asked who lived next door.  
(A) He asked, "Who lives next door?" (B) He said, "Who lived next door?"  
(C) He asks, "Who lives next door." (D) He said, "Who lived next door."
163. Choose the word that is spelt correctly -  
(A) comittee (B) balloon  
(C) succesive (D) fullfill
- Directions: (Q.164 to Q.168): Read the passage and answer the questions that follow -  
A little man beside me was turning over the pages of a magazine quickly and nervously. Opposite me there was a young mother who was trying to restrain her son from making a noise. The boy had obviously grown weary of waiting. He had placed an ash tray on the floor and was making Aeroplane noises as he waved a pencil in his hands. Near him, an old man was fast asleep, snoring quickly to himself and the boy's mother was afraid that sooner or later her son would wake the gentleman up.
164. What was the old man doing?  
(A) Sleeping (B) Looking at the child  
(C) Eating (D) Reading magazine
165. What is meant by 'restrain' in the passage?  
(A) control (B) encourage (C) ire (D) rebuke
166. The person who was least disturbed was the .....  
(A) observer (B) son  
(C) old man (D) little man
167. The noise was made by .....  
(A) the old man (B) the Aeroplane  
(C) the little man (D) the boy
168. The factor common to all the people was that they were all .....  
(A) watching a film (B) waiting for something  
(C) looking at the little boy's (D) reading magazine  
playfulness
169. Men fear ..... death.  
(A) a (B) an (C) the (D) no article
170. I bought this watch ..... two thousand rupees.  
(A) in (B) with (C) for (D) at



भाग-द  
भाषा योग्यता : हिन्दी

171. असंगत विकल्प चुने -  
(A) अभि + नि + आस = अभिन्यास (B) अभि + वि + आपि = अभिव्यापि  
(C) सु + स्थु + अ = सौष्ठव (D) अनु + स + अंग + इक = आनुषंगिक
172. 'सामायण' शब्द में प्रयुक्त प्रत्यय कौनसा है?  
(A) आयन (B) अयन (C) यन (D) यण
173. निम्न में से कौनसा शब्द 'निश्चक' का पर्यायवाची नहीं है?  
(A) सुरक्षित (B) निर्भय (C) निश्चित (D) निस्सांग
174. 'बैठ गए सब तरुछाया में', पंक्ति में रेखांकित शब्द का शुद्ध रूप होगा -  
(A) तरुच्छाया (B) तरुछाया (C) तरुच्छाया (D) तरुछाया
175. प्रसिद्ध उपन्यास 'गोदान' के लेखक हैं -  
(A) शरदचंद्र (B) प्रेमचंद्र (C) अमृता प्रीतम (D) इनमें से कोई नहीं
176. 'यदि मन लगाकर काम करोगे, तो सफलता प्राप्त करोगे।' वाक्य का प्रकार बताइए -  
(A) साधारण वाक्य (B) मिश्र वाक्य (C) संयुक्त वाक्य (D) सभी तीनों
177. निम्नलिखित में से तत्पुरुष समास का उदाहरण है -  
(A) आशातीत (B) यथाशक्ति (C) प्रतिदिन (D) आमरण
178. सरस का विलोम शब्द है -  
(A) नीरस (B) निर्जल (C) निरीह (D) दुर्गम
179. 'सोने में सुगंध' मुहावरे का सही अर्थ है -  
(A) सुगंधयुक्त आभूषण (B) सुन्दर आभूषण  
(C) सुन्दर वस्तु में और गुण होना (D) सुगंधित सोना
180. 'अग्नि का पर्याय नहीं है -  
(A) मयूख (B) पावक (C) वह्नि (D) कृशानु
181. कौनसा समस्तपद 'मध्यमपदलोपी तत्पुरुष' का उदाहरण नहीं है?  
(A) पनचक्की (B) वनमानुष (C) मधुप (D) घृतान्न
182. किस विकल्प में 'ईय' प्रत्यय का प्रयोग नहीं हुआ है?  
(A) पाणिनीय (B) विद्यारणीय (C) मानवीय (D) भवदीय
183. 'एक अकेला, दो ग्यारह' का अर्थ है -  
(A) एक प्रवृत्ति का नहीं होना। (B) संगठन में शक्ति होती है।  
(C) झगडा दोनों ओर से होता है। (D) चालाक को चालाक से काम पड़ना।
184. 'वह हथियार जो हाथ में धामकर चलाया जाता है', वाक्यांश के लिए एक शब्द है -  
(A) अस्त्र (B) शस्त्र (C) ढाल (D) चक्र
185. 'अनंग' शब्द का अर्थ है -  
(A) बिना नग का (B) नासिका-रहित (C) बिना शरीर का (D) मिथ्या ज्ञान
186. वाक्यांश के लिए एक शब्द के संदर्भ में असंगत चुनिए -  
(A) जिसे क्रय किया गया हो = क्रीत  
(B) जिसका हाथ बहुत तेज चलता हो = क्षिप्रहस्त  
(C) सुंदर और लम्बे बालों वाली स्त्री = विकेशिनी  
(D) जो कृत्रिम वेश धारण कर लेता है = छद्मी

187. निम्न में से अशुद्ध वाक्य का चुनाव कीजिए -  
(A) किररी और अन्य से परामर्श लीजिए।  
(B) कृपया अपना वक्तव्य प्रदान कर अनुगृहीत करें।  
(C) हम सबमें मानवीय दुर्बलताएँ हैं।  
(D) मैं निरन्तर कार्य करने का अभ्यस्त हूँ।
188. 'वाग्जाल' का संधि विच्छेद होगा -  
(A) वाक् + जाल (B) वाक् + जाल (C) वाग् + जाल (D) वाग + जाल
189. 'विद्याधन' शब्द में कौनसा समास है?  
(A) कर्मधारय (B) तत्पुरुष (C) अव्ययीभाव (D) द्वंद
190. कवि का स्त्रीलिंग शब्द है -  
(A) कवित्री (B) कवियत्री (C) कवयित्री (D) कवियित्री
191. 'वाक्यांश के लिए एक शब्द' के संदर्भ में संगत को चुनिए-  
(A) जिसकी ईप्सा की गई हो - ईशान  
(B) जो छाती के बल चलता हो - उत्क्षिप्त  
(C) जिसकी दोनों पक्षों में निष्ठा हो - उभयनिष्ठ  
(D) जो अच्छे कुल में उत्पन्न हुआ हो - कृतार्थ
192. निम्न शब्दों में किसकी वर्तनी शुद्ध है?  
(A) अनुग्रहीत (B) अनुग्रहित (C) अनुग्रहित (D) अनुगृहीत
193. निम्न में से संधि के संबंध में सही विकल्प का चयन कीजिए -  
(A) परि: + कार = परिष्कार (B) प्रो + ज्वल = प्रोज्ज्वल  
(C) कृपा + आचार्य = कृपाचार्य (D) नि + स्थुर = निष्ठुर
194. किस विकल्प में 'इत' प्रत्यय का प्रयोग तद्धित रूप में हुआ है?  
(A) मापित (B) लिखित (C) याधित (D) दुःखित
195. अकधूत का अर्थ है -  
(A) अनाहुत (B) मस्त और फक्कड  
(C) अवध का रहने वाला (D) अवधी बोलने वाला
196. निम्नलिखित में कौनसा शब्द 'निर्' उपसर्ग से नहीं बना?  
(A) निर्वचन (B) निर्वाह (C) निरत (D) निर्मूल
197. अशुद्ध शब्द का चयन कीजिए -  
(A) पीडित (B) जडमति (C) योगरूढ (D) निरोगी
198. द्वन्द्व समास के भेदों के संदर्भ में असंगत चुने -  
(A) गंगा-यमुना = इतरेतर द्वन्द्व (B) कृष्णार्जुन = वैकल्पिक द्वन्द्व  
(C) इकहत्तर = इतरेतर द्वन्द्व (D) बाल-बच्चा = समाहार द्वन्द्व
199. 'अंधे की लकड़ी' मुहावरे का सही अर्थ है -  
(A) निर्गुणी को कोई अमूल्य वस्तु अनायास प्राप्त होना  
(B) जहाँ अव्यवस्था हो  
(C) एकमात्र सहारा  
(D) प्राप्त न होने पर उस वस्तु को बेकार बताना
200. निम्न में से कौनसा शब्द 'परि' उपसर्ग से बना है?  
(A) परिधि (B) पराकाष्ठा (C) प्रदक्षिणा (D) परजीवी



भाग-द  
भाषा योग्यता : संस्कृतम्

171. शुद्ध वाक्यस्य चयनम् कुरु -  
(A) विप्राय गां ददाति। (B) विप्रस्य गां ददाति।  
(C) विप्रे गां ददाति। (D) विप्रं गां ददाति।
172. अधोलिखितेषु शुद्ध वाक्यमस्ति -  
(A) पुत्र सह आगतः पिता। (B) पुत्रात् सह आगतः पिता।  
(C) पुत्रेण सह आगतः पिता। (D) पुत्रस्य सह आगतः पिता।
173. "नदी" शब्दस्य द्वितीया विभक्ति द्विवचन कः?  
(A) नद्यः (B) नदीम् (C) नदीः (D) नद्यौ
174. एतेषु अशुद्धम् वाक्यमस्ति -  
(A) वृक्षात् फलं पतति (B) रामः दुग्धं पिबति  
(C) सीता पाठं पठितवती (D) लता कन्दुके क्रीडति
175. 'गंगा' शब्दस्य चतुर्थी एकवचने किं रूपम् -  
(A) गंगायाः (B) गंगायै (C) गंगाम्यः (D) गंगानाम्
176. 'आचार्य' शब्दस्य षष्ठी द्विवचनस्य रूपमस्ति -  
(A) आचार्या (B) आचार्याभ्याम् (C) आचार्याः (D) आचार्ययोः
177. उपसर्गसंज्ञा विधायकं सूत्रमस्ति?  
(A) भूवादयो धातवः (B) प्रादयः  
(C) आद्गुणः (D) उपसर्गाः क्रियायोगे
178. 'ई' वर्णस्य उच्चारणस्थानमस्ति -  
(A) कण्ठः (B) तालुः (C) कण्ठतालु (D) दन्ताः
179. 'युष्माकं गृहं कुत्र अस्ति' वाक्ये कः सर्वनामः अस्ति?  
(A) युष्माकं (B) गृहं (C) कुत्र (D) अस्ति
180. 'राज्ञः पुरुषः गच्छति' अस्मिन् वाक्ये 'राज्ञः' पदे का विभक्तिः अस्ति?  
(A) द्वितीया (B) पञ्चमी (C) षष्ठी (D) सप्तमी
181. 'रात्रि' शब्दस्य विपरीतार्थकः कः अस्ति?  
(A) रातः (B) निशा (C) अहन् (D) शर्वरी
182. 'भू' धातोः लङ् लकारे प्रथमपुरुषैकवचनमस्ति -  
(A) अमवन् (B) अमव (C) अमवत (D) अमवत्
183. 'आ + पद' धातोः क्तप्रत्ययान्तं रूपं भवति -  
(A) आपत्तः (B) आपन्नः (C) आपदतः (D) आपदनः
184. अधोलिखितेषु विसर्गसन्धेरुदाहरणमस्ति -  
(A) बालस्यात्र (B) माधवो नाम (C) तवैव (D) तच्चरणयोः
185. 'उपेन्द्र' शब्दस्य कः सन्धिविच्छेदः अस्ति?  
(A) उप + एन्द्रः (B) उपा + इन्द्रः (C) उप + इन्द्रः (D) उप + ऐन्द्रः

186. 'तल्लयः' शब्दस्य सन्धि विच्छेदः कः अस्ति?  
(A) तल् + लयः (B) तल्ल् + य (C) त् + लयः (D) तल् + लयः
187. 'शास्त्रपाण्डित्यम्' पदे कः समासः अस्ति?  
(A) पञ्चमी तत्पुरुषः (B) चतुर्थी तत्पुरुषः  
(C) षष्ठी तत्पुरुषः (D) सप्तमी तत्पुरुषः
188. विसर्गस्य उच्चारणस्थानं भवति -  
(A) तालुः (B) कण्ठः (C) मूर्धा (D) ओष्ठौ
189. अधोलिखितेषु शुद्ध वाक्यमस्ति -  
(A) रामः अयोध्यायामध्यवसत् (B) रामः अयोध्यामध्यवसत्  
(C) रामः अयोध्यायाः अध्यवसत् (D) रामः अयोध्यायै अध्यवसत्
190. 'सर्व' शब्दस्य (पुं) षष्ठी बहुवचने रूपम् स्यात् -  
(A) सर्वेषाम् (B) सर्वासाम् (C) सर्वानु (D) सर्वयोः
191. तत् + लिखति इत्यनेन निष्पन्नं सन्धिपदमस्ति -  
(A) तदलिखति (B) तल्लिखति (C) तल्लिखति (D) तदिदखति
192. 'भू' धातोः लोट् लकारे मध्यमपुरुष बहुवचनस्य रूपमस्ति -  
(A) भवत (B) भवत् (C) भवितास्थ (D) भवतात्
193. 'शक्यः रामस्य द्वारात् सीताम् अपहरत्' वाक्यस्य रेखाङ्कित पदस्य किं लिङ्गमस्ति?  
(A) पुल्लिङ्गम् (B) स्त्रीलिङ्गम् (C) नपुंसकलिङ्गम् (D) अलिङ्गम्
194. कर्तव्यम् - लेखितव्यम् - पठितव्यम् इत्येतेषु शब्देषु कः प्रत्ययः?  
(A) तव्यप्रत्ययः (B) तव्यत् प्रत्ययः (C) यत् प्रत्ययः (D) व्यत् प्रत्ययः
195. 'सन्धिः' शब्दः कस्मिन् लिङ्गे आयाति?  
(A) पुल्लिङ्गे (B) नपुंसकलिङ्गे (C) स्त्रीलिङ्गे (D) उभयलिङ्गे
196. 'समुद्र' शब्दस्य पर्यायवाची कः अस्ति?  
(A) सुधाकरः (B) रत्नाकरः (C) निशाचरः (D) दिनकरः
197. 'प्र + नम् + घञ्' कृते किं रूपं भवति?  
(A) प्रणमय्यः (B) प्रणीतः (C) प्रणामः (D) प्रणम्य
198. 'घोरमयम्' इत्यत्र समासोऽस्ति -  
(A) चतुर्थी तत्पुरुषः (B) द्वितीया तत्पुरुषः (C) पञ्चमी तत्पुरुषः (D) सप्तमी तत्पुरुषः
199. अयादि सन्धेः उदाहरणमस्ति -  
(A) स्वल्पाः (B) मध्वरिः (C) नायकः (D) श्रुत्वा
200. 'भुक्तवान्' पदे प्रत्ययः अस्ति -  
(A) क्त (B) क्तवत् (C) तम् (D) वत्